

- Rodea el número mayor.

7 9	12 3	13 17	4 1
10 5	10 15	0 2	5 3

- Relaciona.

1 decena y 3 unidades

15

10 y 7

1 decena y 7 unidades

13

10 y 5

1 decena y 5 unidades

17

10 y 3

Nombre: Fecha:

- Escribe el número anterior y el siguiente.

4	5	6
	8	

	9	
	13	

	2	
	7	

	10	
	11	

- Escribe el número que corresponde.

--	--	--	--	--	--	--	--	--	--

--	--

--

--	--	--	--	--	--	--	--	--	--

--	--	--	--

--

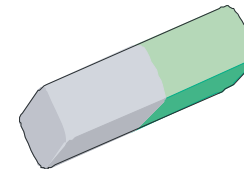
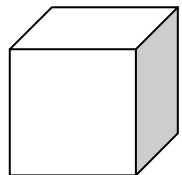
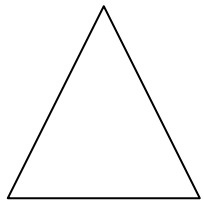

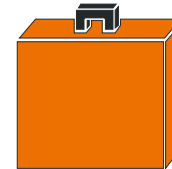
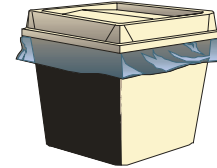

--	--	--	--	--	--	--	--	--	--

--	--	--	--	--	--	--	--	--	--

--


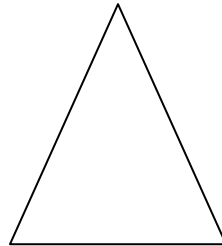


Nombre: Fecha:

- Une cada figura con el objeto que sirve para dibujarla.



Nombre: Fecha:

- Une cada figura geométrica con el objeto que tiene la misma forma.
que tiene la misma forma.



Nombre: Fecha:

● Completa:



y



son




.....

.....

.....



y



son



.....

.....

.....



y



son




.....

.....


.....

Nombre: Fecha:


● Completa:



y



son




.....

.....

.....



y




son



.....

.....


.....



y



son



.....

.....

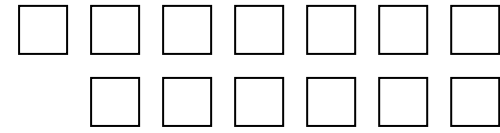
.....

Nombre: Fecha:

• Relaciona:


10

10 y 2



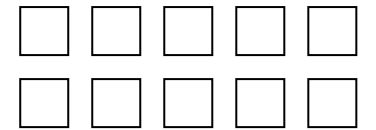
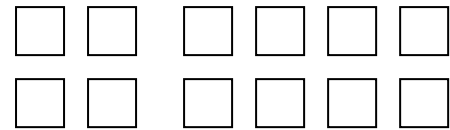
11

10 y 4



12

10



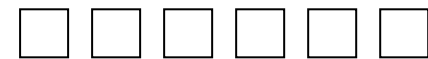
13

10 y 1



14

10 y 3



Nombre: Fecha:

● Colorea:


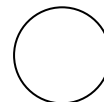

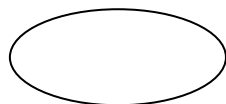

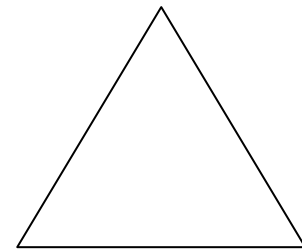


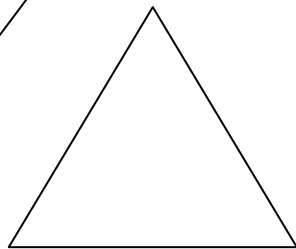
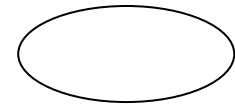

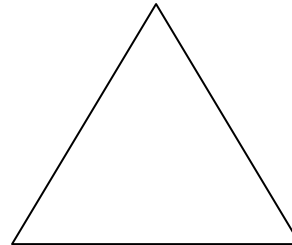
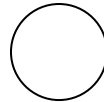

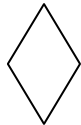
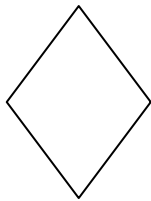







Completa la serie:

0	1				5
---	---	--	--	--	---

Nombre: Fecha:


• Formas geométricas. Colorea



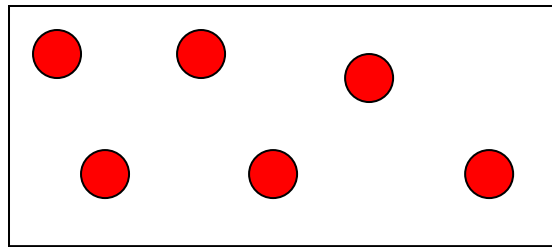
Nombre: Fecha:

- Números 6 y 7.

Completa cada grupo:



6



7

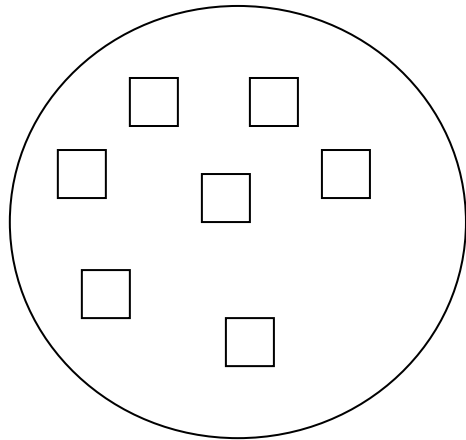
- Completa la serie:

0							7
---	--	--	--	--	--	--	---

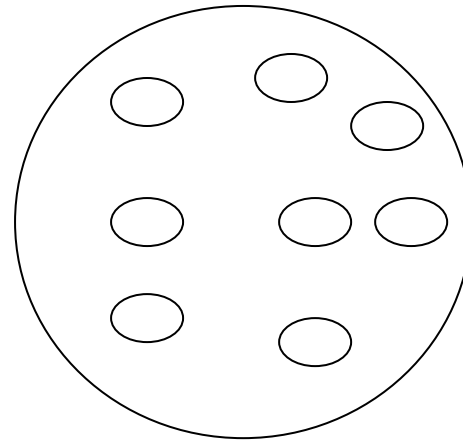
Nombre: Fecha:

- Numeros 8 y 9.

Completa cada grupo.



8



9

Completa estas series:

0					5				9
---	--	--	--	--	---	--	--	--	---

Nombre: Fecha:

• Escribe los números que faltan:

3		5	
---	--	---	--

	7		9
--	---	--	---

2		4	
---	--	---	--

0		2	
---	--	---	--

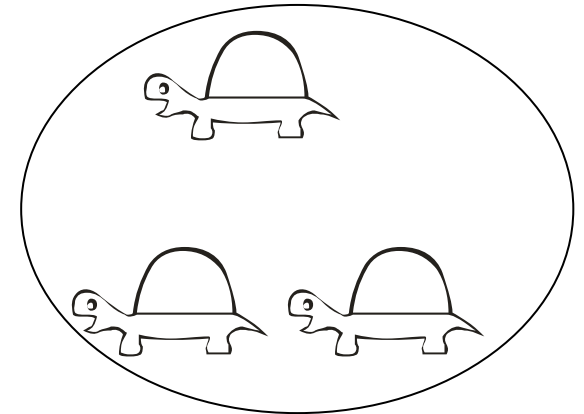

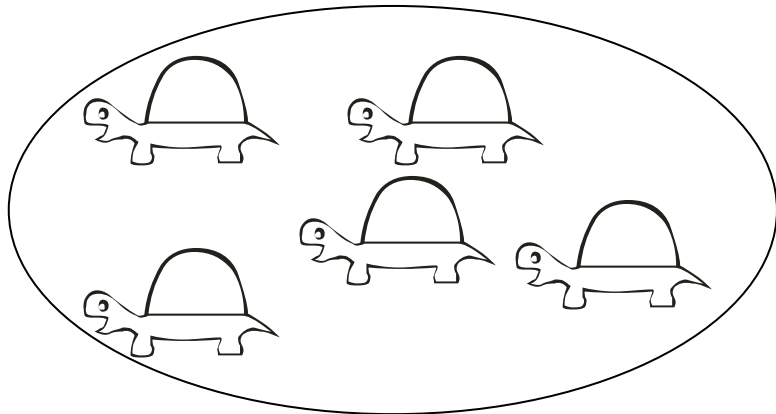
5			8
---	--	--	---

6			9
---	--	--	---




Nombre: Fecha:

- Más que, menos que:

Colorea dónde hay menos.



Colorea dónde hay más:



Nombre: Fecha:

● Cuenta y completa:



y



son



y



son



y



son





Nombre: Fecha:

● Cuenta y completa:




y



y





son



y




son



y



son



Nombre: Fecha:

• Rodea el número mayor:

8 4 2

5 3 7

4 0 9

1 7 2

9 2 5

1 5 7

6 1 9

0 8 5

4 7 2

Nombre: Fecha:

• Rodea el número menor:

1 7 4

2 6 7

2 0 1

8 1 7

4 2 5

9 5 7

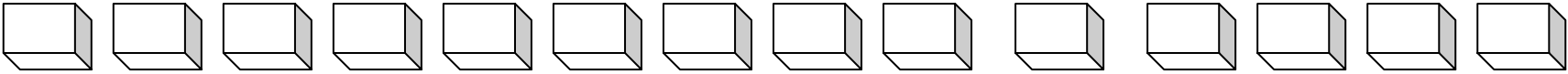
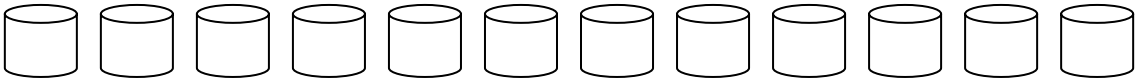
7 3 9

4 2 1

4 7 2

Nombre: Fecha:

● La Decena. Forma grupos de 10:



Nombre: Fecha:

• Decenas y unidades:

$$10 \text{ y } 1 = \dots\dots\dots$$

$$10 \text{ y } 2 = \dots\dots\dots$$

$$10 \text{ y } 3 = \dots\dots\dots$$

$$10 \text{ y } 4 = \dots\dots\dots$$

$$10 \text{ y } 5 = \dots\dots\dots$$

Nombre: Fecha:

• Decenas y unidades:

$$10 \text{ y } 5 = \dots\dots\dots$$

$$10 \text{ y } 6 = \dots\dots\dots$$

$$10 \text{ y } 7 = \dots\dots\dots$$

$$10 \text{ y } 8 = \dots\dots\dots$$



$$10 \text{ y } 9 = \dots\dots\dots$$

Nombre: Fecha:

• Completa lo que falta:

Un  y un  son  

Una  y una  son  

Una  y una  son  

Nombre: Fecha:

• Completa lo que falta:



2

más



1

son

.....



1

más



2

son

.....



1

más



1

más



1

son

.....

Nombre: Fecha:

• Completa lo que falta.

• El signo = significa igual.



1 más 1 =



2 más 0 =

Nombre: Fecha:

• Completa lo que falta.




2

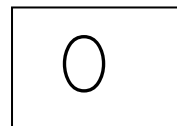
+

1

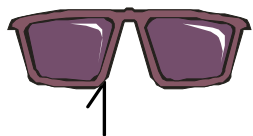
=



+




=



más

+




=

=


Nombre: Fecha:

● Problema. Resuelve.

Tengo



.Me dan



Ahora tengo:

$$5 + 4 = \dots\dots$$

Tengo



Me dan



Ahora tengo.....

$$8 + 5 = \dots\dots$$

Nombre: Fecha:

- Ordena los números de menor a mayor.

3 5 1

--	--	--

4 2 6

--	--	--

5 7 6

--	--	--

- Ordena los números de mayor a menor.

3 5 4

--	--	--

2 4 3

--	--	--

9 7 8

--	--	--

Nombre: Fecha:

• Relaciona cada número con su cantidad.



1

2

3

4

5



Nombre: Fecha:

• Busca y rodea el número: 10

10

30

50

10

40

10

20

50

20

50

30

10

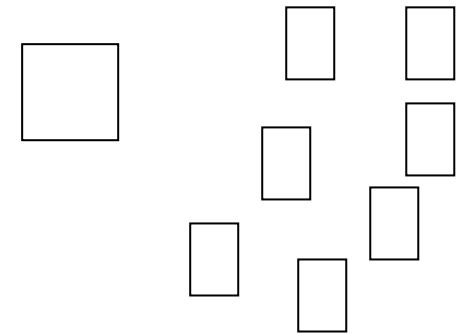
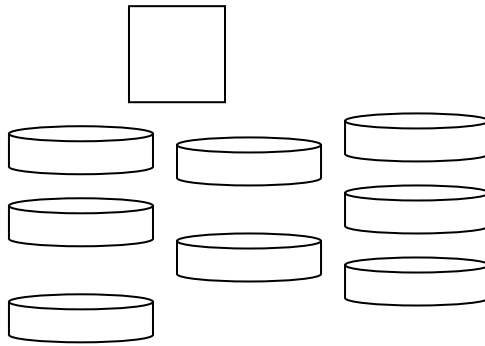
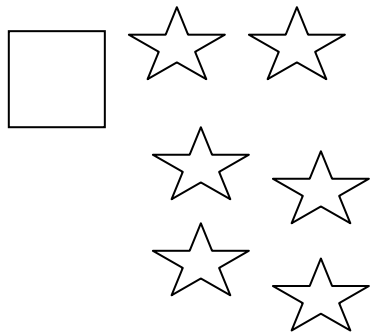
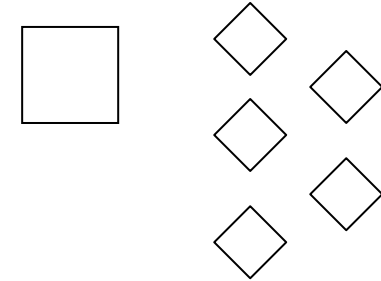
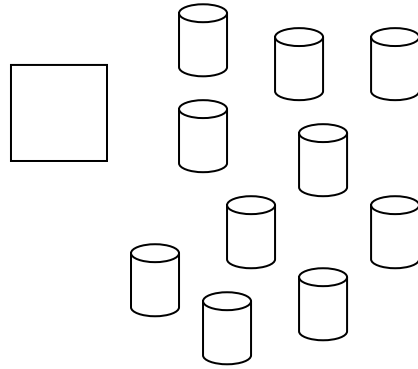

10

30

20

Nombre: Fecha:

● Cuenta y pon el número que corresponde



Nombre: Fecha:

• Busca y rodea el número:

10

11

12

11

13

14

11

15

11



13

10

11

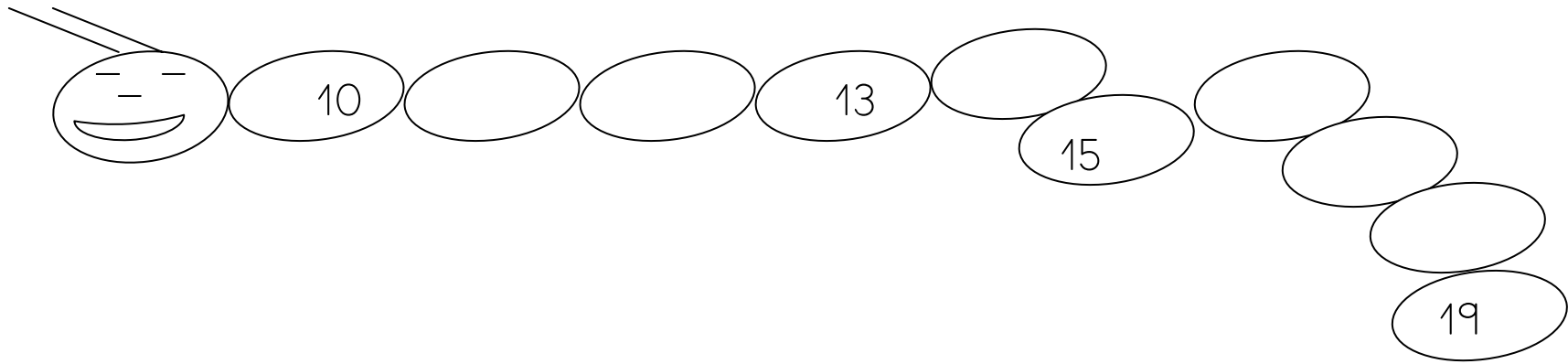
Nombre: Fecha:

• Cuenta y rodea 10  , 10  y 10 

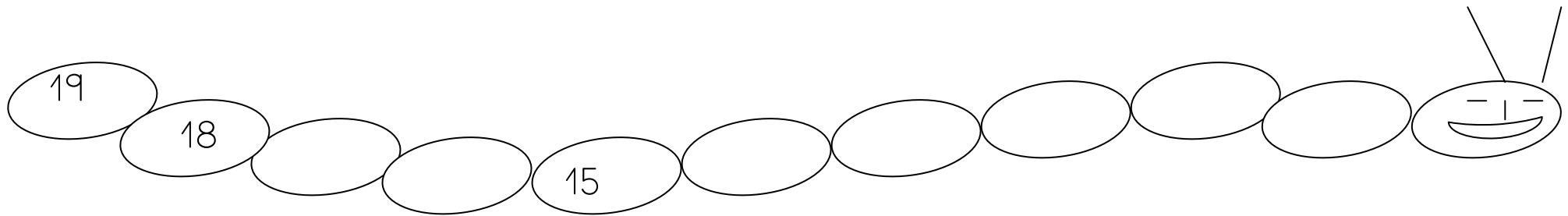


Nombre: Fecha:

- Completa la serie.



- Completa la serie decreciente



Nombre: Fecha:

- ¿Qué número falta?

4	
---	--

7	
---	--

3	
---	--

2	
---	--

8	
---	--

5	
---	--

6	
---	--

9	
---	--

Nombre: Fecha:

• Busca y rodea el número: 12

10

11

12

13

12

14

11

15

11

12

10

12

Nombre: Fecha:

- Completa la serie. Del 10 al 15.

10	11				
----	----	--	--	--	--

- Escribe los números que faltan en cada serie:

	8		10
--	---	--	----

	9	10	
--	---	----	--

10		12	
----	--	----	--

12		14	
----	--	----	--

Nombre: Fecha:

● Relaciona.

12

10 y 5

13

10 y 4

11

10 y 3

15

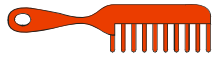
10 y 2

14

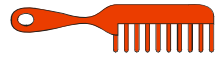
10 y 1

Nombre: Fecha:

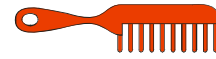
● Completa:



y



son



.....

.....



.....



y




son




.....

.....

.....



y



son



.....

.....

.....

Nombre: Fecha:

- Completa la serie. Del 14 al 19.

14	15				
----	----	--	--	--	--

- Escribe los números que faltan en cada serie:

	10		12
--	----	--	----

	14	15	
--	----	----	--

14		16	
----	--	----	--

15		17	
----	--	----	--

Nombre: Fecha:

• Busca y rodea el número: 13

10

12

13

11

14

10

11

13

13

12

13

12

Nombre: Fecha:

• Busca y rodea el número: 14

12

14

11

14

10

12

14

15

14

13

10

14

Nombre: Fecha:

• Busca y rodea el número: 15

15

14

15

12

10

12

14

15

14


15

15

14

Nombre: Fecha:


- Cuenta y rodea 11 animales de cada clase.



Nombre:


Fecha:

- Cuenta y rodea 12 frutas de cada clase.



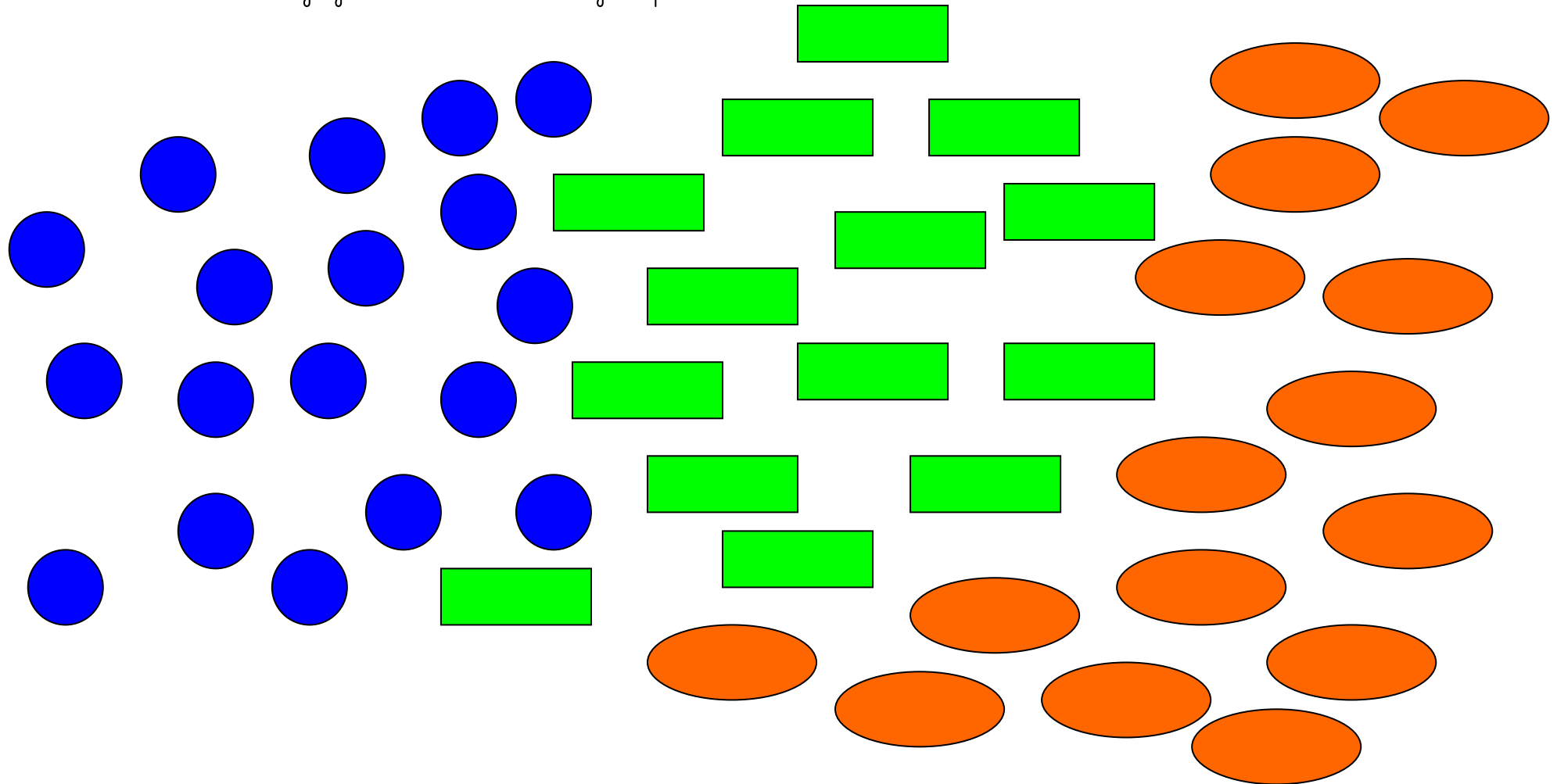
Nombre: Fecha:

- Rodea 13 alimentos de cada grupo



Nombre: Fecha:

- Rodea 14 figuras de cada grupo






Nombre: Fecha:

● Rodea 15 animales de cada grupo.




Nombre: Fecha:

- Cuenta y pon el número que corresponde en cada grupo.



Nombre: Fecha:

• Tengo
en total?



Me dan




¿Cuántos tengo


y

son

• Tengo
gatos tengo ahora?



y encuentro



¿Cuántos

Y

son

Nombre: Fecha:

- *Completa la serie.*

1		3			6				10
---	--	---	--	--	---	--	--	--	----

- *Completa la serie decreciente.*

10				6			3		1
----	--	--	--	---	--	--	---	--	---

Nombre: Fecha: